




Тематическое направление работы:
гражданское воспитание



Наименование работы:
Классный час «Наш город»



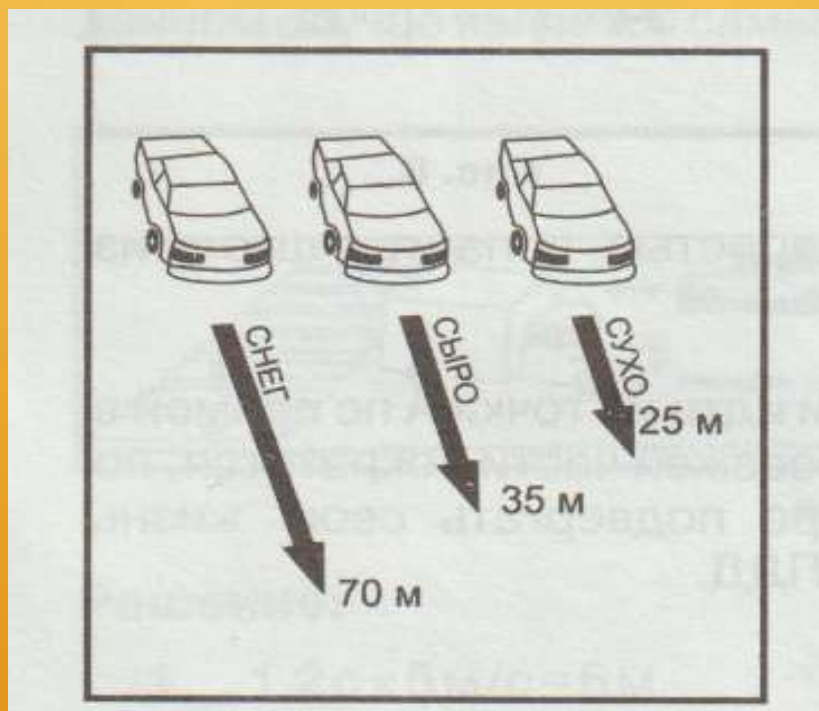
Автор составитель: Смирнова Вера Анатольевна,
классный руководитель
МБОУ «Лицей № 120 г. Челябинск»



Задача 1



Тормозной путь автомобиля меняется в зависимости от состояния проезжей части дороги, как показано на рисунке. Во сколько раз изменится тормозной путь в каждом случае? Как это должен учитывать водитель? Пешеход?



Решение:

Водитель должен в дождь и снег снижать скорость и начинать тормозить на большом расстоянии от светофора.

Пешеход должен быть предельно внимателен и переходить дорогу только по зелёному сигналу светофора.

1) $35 : 23 = 1,5$ (раза)

2) $70 : 35 = 2$ (раза)

Ответ: в 1,5; 2 раза



Задача 2

Выразите скорость 25 м/с в км/ч . Не будет ли эта скорость выше, чем на указателе?



Решение:

$$1) 25 \text{ м/с} = 25 \text{ м/с} \quad 3600 \text{ с} : 1000 \text{ м} = 90 \text{ км/ч}$$

$$2) 90 \text{ км/ч} \quad 60 \text{ км/ч}$$

Ответ: Скорость будет выше, чем на указателе.



«Наш город»









**На дороге должен каждый
Правила движения знать,
И, конечно, очень важно
Их, ребята, выполнять!**







Правило 1.

Пешеходы должны ходить только по
...тротуару.



Правило 2.

Если дорога небольшая, пешеходы по
обочинам идут ...навстречу транспорту.



Правило 3.

При переходе улицы обязательно надо посмотреть сначала ...налево, а потом направо.



Правило 4.

Где попало и как попало дорогу переходить нельзя! А где можно переходить дорогу?... по пешеходным переходам.



Правило 5.

Правильно переходить дорогу на
перекрёстке помогает ...светофор.



Предупреждающие знаки



ПРЕДПИСЫВАЮЩИЕ ЗНАКИ



4.1.1
ДВИЖЕНИЕ ПРЯМО



4.1.5
ДВИЖЕНИЕ ПРЯМО
ИЛИ НАЛЕВО



4.2.3
ОБЪЕЗД ПРЕПЯТСТВИЯ
СПРАВА И СЛЕВА



4.5.1
ПЕШЕХОДНАЯ
ДОРОЖКА



4.5.4
ПЕШЕХОДНАЯ И ВЕЛОСИПЕДНАЯ
ДОРОЖКИ С РАЗДЕЛЕНИЕМ ДВИЖЕНИЯ



4.5.5



4.1.2
ДВИЖЕНИЕ
НАПРАВО



4.1.6
ДВИЖЕНИЕ НАПРАВО
ИЛИ НАЛЕВО



4.3
КРУТОВОЕ ДВИЖЕНИЕ



4.5.2
ПЕШЕХОДНАЯ И
ВЕЛОСИПЕДНАЯ
ДОРОЖКА С
СОВМЕЩЕННЫМ
ДВИЖЕНИЕМ



4.5.6
КОНЕЦ ПЕШЕХОДНОЙ И ВЕЛОСИПЕДНОЙ
ДОРОЖКИ С РАЗДЕЛЕНИЕМ ДВИЖЕНИЯ



4.5.7



4.1.3
ДВИЖЕНИЕ
НАЛЕВО



4.2.1
ОБЪЕЗД
ПРЕПЯТСТВИЯ СПРАВА



4.4.1
ВЕЛОСИПЕДНАЯ
ДОРОЖКА



4.5.3
КОНЕЦ ПЕШЕХОДНОЙ И
ВЕЛОСИПЕДНОЙ
ДОРОЖКИ С
СОВМЕЩЕННЫМ
ДВИЖЕНИЕМ



4.6
ОГРАНИЧЕНИЕ
МИНИМАЛЬНОЙ СКОРОСТИ



4.7
КОНЕЦ ОГРАНИЧЕНИЯ
МИНИМАЛЬНОЙ СКОРОСТИ



4.1.4
ДВИЖЕНИЕ ПРЯМО
ИЛИ НАПРАВО



4.2.2
ОБЪЕЗД
ПРЕПЯТСТВИЯ СЛЕВА



4.4.2
ВЕЛОСИПЕДНАЯ
ДОРОЖКА



4.8.1



4.8.2



4.8.3

НАПРАВЛЕНИЕ ДВИЖЕНИЯ ТРАНСПОРТНЫХ
СРЕДСТВ С ОПАСНЫМИ ГРУЗАМИ



Информационно-указательные знаки



MyShared

• ЗАПРЕЩАЮЩИЕ



ВЪЕЗД ЗАПРЕЩЕН



Движение пешеходов
запрещено



Движение
грузовых автомобилей
запрещено



Движение мотоциклов
запрещено



Движение на велосипедах
запрещено



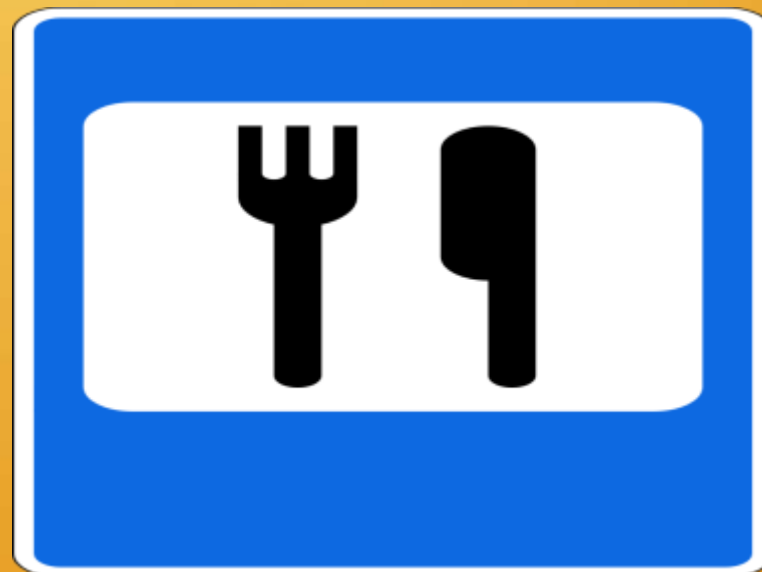
Обгон запрещен





Дорожные работы





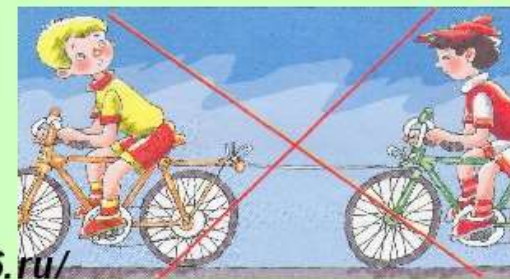




Есть у меня велосипед,
Но нет **ЧЕТЫРНАДЦАТИ ЛЕТ**.
Пока катаюсь во дворе,
Где безопасно детворе.

И даже в дом соседний к деду
Я через улицу не еду,
А на **ЗЕЛЕНый** свет иду,
ВЕЛОСИПЕД ЗА РУЛЬ ВЕДУ.

Правила езды на велосипеде.



<http://www.deti-66.ru/>

ЗАПОМНИ!!!!



ПРАВИЛА ДОРОЖНОГО ДВИЖЕНИЯ




Если красный
свет горит,
Это значит
путь закрыт!



Желтый -
подожди чуть-чуть,
Будь готов
продолжить путь!



А зелёный свет
горит,
Это значит
путь открыт!





Что за белые полосы
На соседнем перекрестке?
Это "ЗЕБРА" - ПЕРЕХОД -
Через улицу ведет.

Перейти дорогу можно
Там, где **ЗНАК СТОИТ ДОРОЖНЫЙ**.
Чтобы мы его узнали,
Нам его нарисовали.